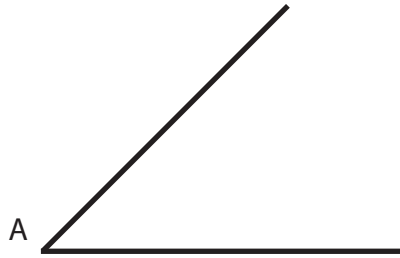
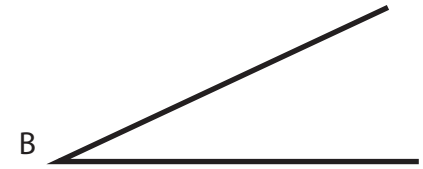
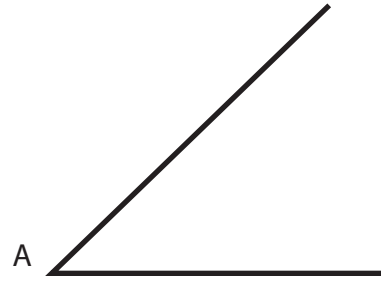


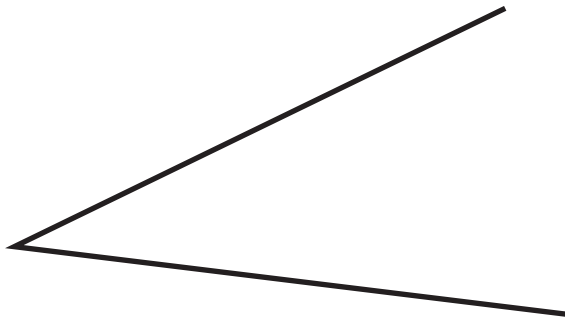
1 - Copiar el ángulo A en el punto A' de la semirrecta.



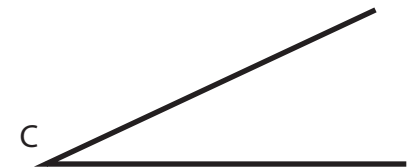
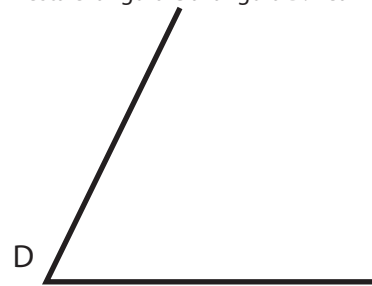
2 - Suma los ángulos A y B. Realiza la operación en el punto C de la semirrecta.



3 - Trazar la bisectriz del ángulo.



4 - Resta el ángulo C al ángulo D. Realiza la operación en el punto E de la semirrecta.



NOMBRE				
GRUPO		FECHA		LÁMINA N°
Operaciones - Ángulos				